

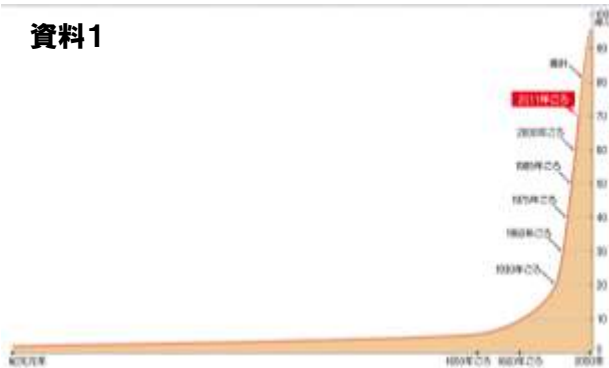
# 1 世界の人口分布と変化

課題 世界の人口はどのように分布し、そこではどのような問題が起きているのだろう。

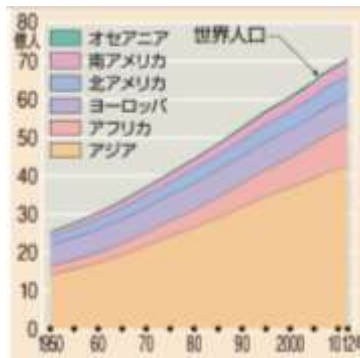
2年 組 番  
氏名 \_\_\_\_\_

## (1) 増え続ける世界の人口

資料1



資料2



## (2) 世界の人口問題

①教科書 P.156、P.157 を見て、下の文の【 】に語句を入れましょう。

人口問題には、【 】と**先進工業国**とで大きなちがいが見られます。アジアやアフリカなどの発展途上国では、【 】とも呼ばれる急激な人口増加に対して、【 】が追いつかない地域や、病院や【 】が不足している地域が多くあります。水道や電気がなく、衛生状態の良くないせまい住宅に多くの人が住む、【 】と呼ばれる地区もあります。また、【 】や戦争などによって、多くの**難民**が生み出されている地域もあります。

これに対して、先進工業国では、【 】が進んでおり、人口が減少している国もあります。

②上の文の中で、「先進工業国」「難民」という語句があります。この 2 つの語句の意味を教科書 P.288～の用語解説から調べて書きましょう。

先進工業国	
難民	

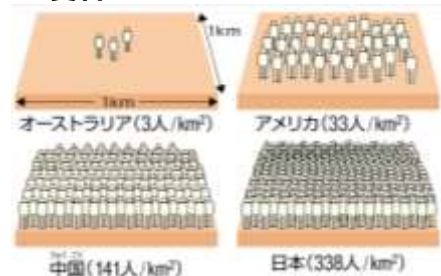
③教科書 P.157 の地理スキル・アップを読んで、そこに書かれている「ワーク」の①・②をやってみましょう。

【まとめ】今回の学習で分かったことや、考えたことを書いてみましょう。

①資料1と資料2を見て、世界の人口の移り変わりについて、分かることを書きましょう。教科書 P.156

②資料3は主な国の人口密度を表しています。人口密度はその国の人口を面積で割ったもので、1平方キロメートルあたり何人いることになるかを示したものです。そのことを参考にして、下の問題に答えてみましょう。

資料3



※人口÷面積＝人口密度

【問題】小数第1位を四捨五入して、それぞれの国の人口密度を答えましょう。

国名	人口(万人)	面積(万km <sup>2</sup> )
エジプト	8890	100
カナダ	32142	999

I エジプトの人口密度

II カナダの人口密度