

## 4 日本の産業

課題 日本の産業には、どのような特徴があるのだろう。

2年 組 番

氏名

### (1)日本の農林水産業

#### 資料1

①資料1を見て、アメリカと日本の農業の違いについて述べた文の【 】にあてはまる語句を書きましょう。また、日本の農業の特色についても書かれています。教科書 P.164 を見て、【 】に語句を入れましょう。

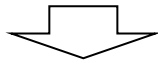
	アメリカ	日本
国民一人あたりの農地面積(2012年)	169.6ha	3.7ha
国民一人あたりの機械保有台数(2007年)	1.77台	1.64台
国民一人あたりの穀物の収穫量(2012年)	148.1t	9.4t

アメリカと日本の農業経営を比べると、アメリカの農民1人あたりの農地面積は日本の約【 】倍あります。また、穀物の収穫量もアメリカの方が日本の約【 】倍と多いです。このことから、日本の農業は北海道を除いてアメリカよりも規模が【 】い、自作農が多いことが特色といえます。また、機械化が進んだ結果、人手が少なくてすむようになり、ほかの仕事と【 】する農家が多くなっています。

②下の分は、日本の野菜の生産について述べたものです。それぞれについての説明が書かれた文にあてはまるものを、語群から選んで語句で書いてみましょう。語群【 促成栽培 近郊農業 施設園芸農業 抑制栽培 】

	千葉県や茨城県などの大都市近郊で行われるようになった園芸農業。
	宮崎県や高知県などの暖かい気候を利用した農業。
	長野県や岩手県などの冷涼な気候を利用した農業。
	ビニールハウスや温室などの施設を使う農業。

③日本の農業がかかえる課題を、教科書 P.164 と P.165 を見て(できれば資料5・資料6も参考にして)、まとめてみましょう。



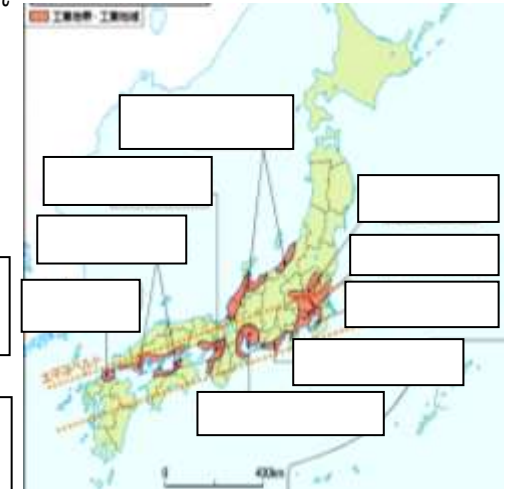
### (2)日本の工業

①資料2の口には日本の工業地帯・工業地域が入ります。口に語句を入れてみましょう(教科書 P.166)。  
②下の語句は工業を学ぶ中で重要な語句です。語句の意味を教科書 P.290 で調べてみましょう。

#### 【工業団地】

#### 【多国籍企業】

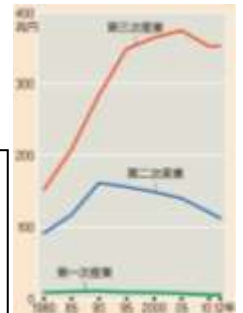
#### 資料2



### (3)日本の商業・サービス業

資料3は、日本の産業別国内総生産の変化を示しています。教科書 P.169<sup>7</sup>も参考にして、日本の産業はどのように変化しているか自分の考えを書いてみましょう。

#### 資料3



【まとめ】日本の産業には、どのような特徴があるか書きましょう。